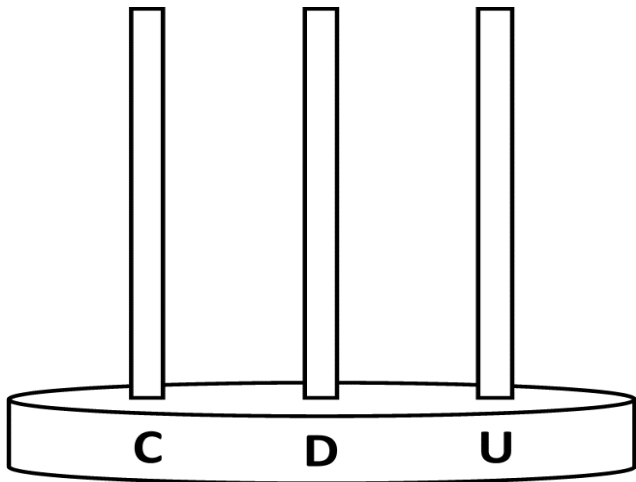
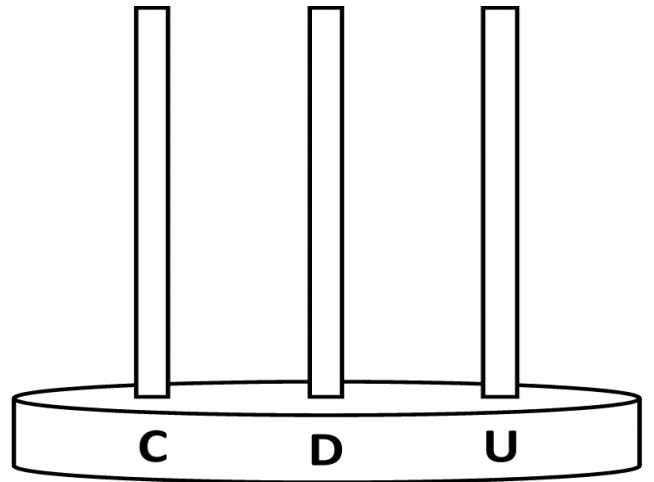


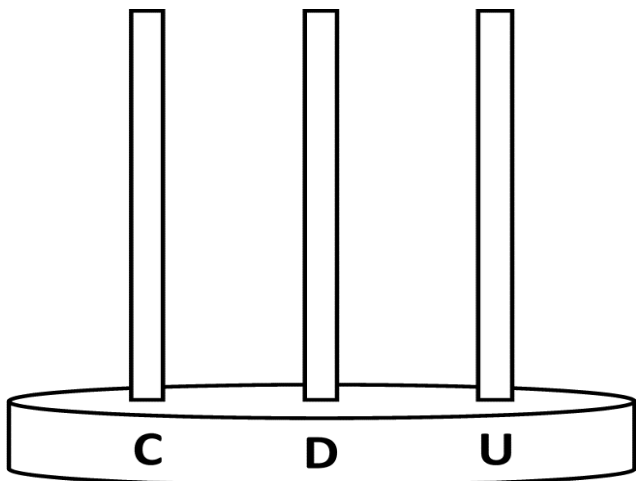
Dessine les billes
du nombre 58.



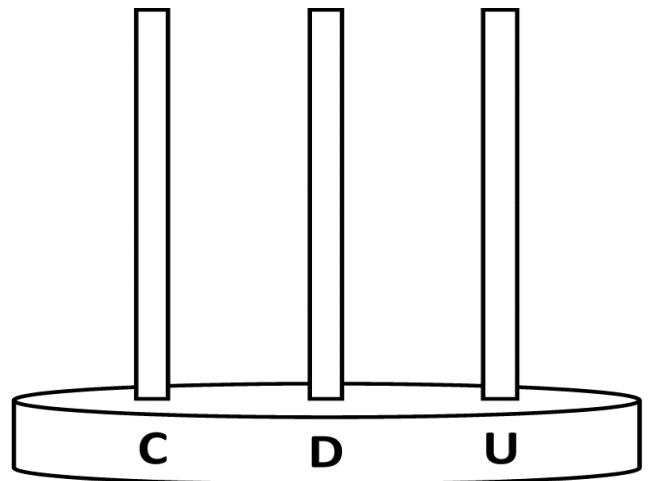
Dessine les billes
du nombre 64.



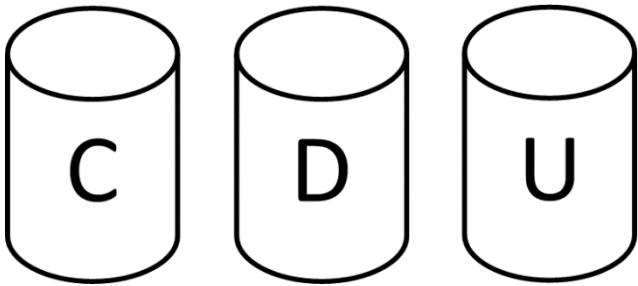
Dessine les billes
du nombre 51.



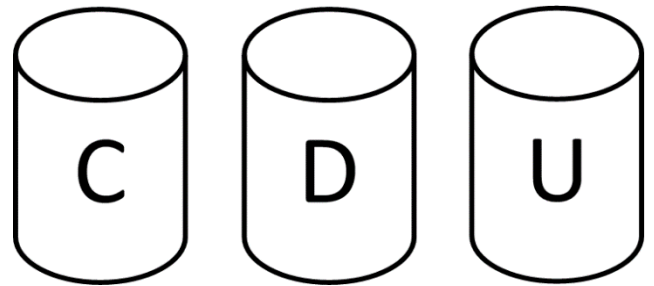
Dessine les billes
du nombre 67.



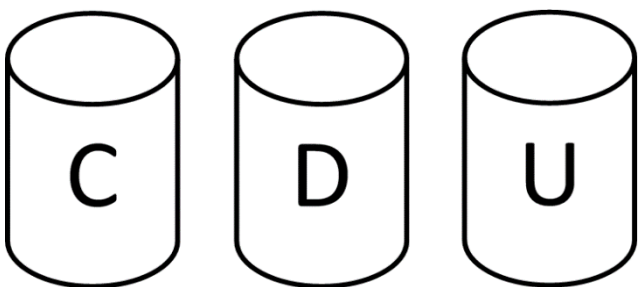
Dessine les pailles
du nombre 52.



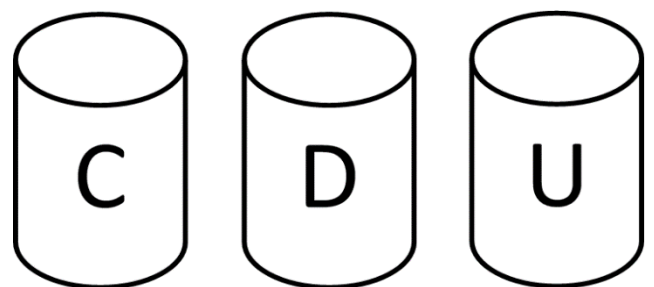
Dessine les pailles
du nombre 75.



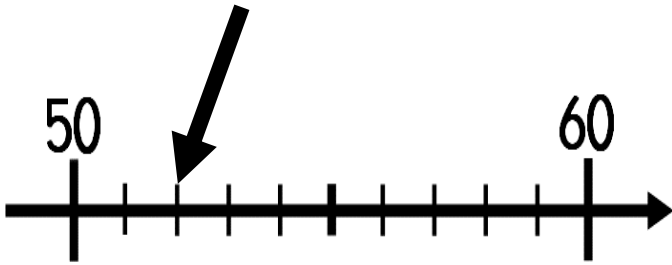
Dessine les pailles
du nombre 61.



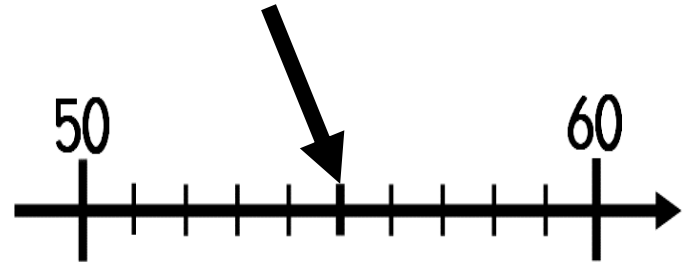
Dessine les pailles
du nombre 59.



Écris le nombre.

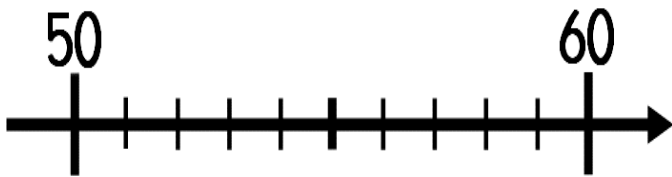


Écris le nombre.



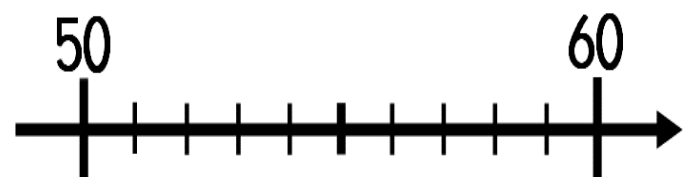
Place le nombre.

51

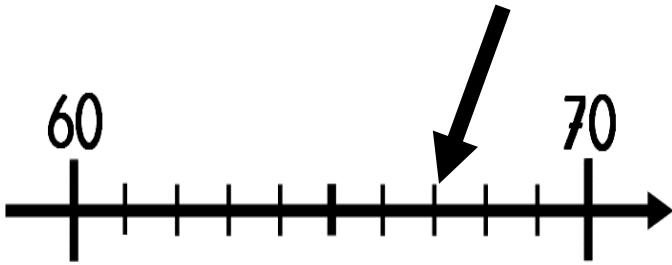


Place le nombre.

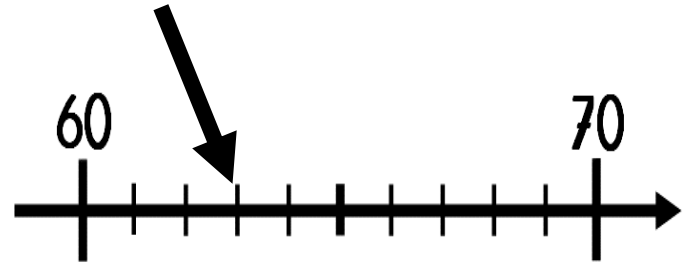
56



Écris le nombre.

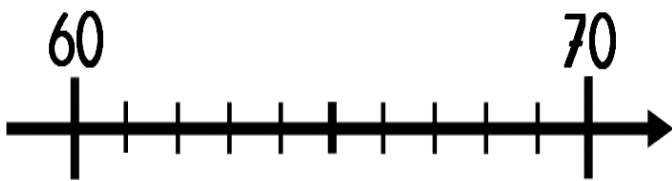


Écris le nombre.



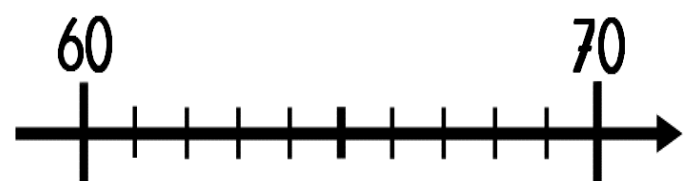
Place le nombre.

66



Place le nombre.

69




Écris la somme.

_____ €



Écris la somme.

_____ €



Écris la somme.

_____ €




Écris la somme.

_____ €




Dessine la somme.

58 €




Dessine la somme.

70 €




Dessine la somme.

60 €



Dessine la somme.

65 €



Écris en lettres le
nombre 56.

Écris en lettres le
nombre 61.

Écris en lettres le
nombre 63.

Écris en lettres le
nombre 54.



Écris en lettres le
nombre 59.

Écris en lettres le
nombre 65.

Écris en lettres le
nombre 74.

Écris en lettres le
nombre 67.



Range les nombres du plus petit au plus grand.

49 2 13
60 51

Range les nombres du plus petit au plus grand.

18 42 1
27 58

Range les nombres du plus petit au plus grand.

62 56 68
52 47

Range les nombres du plus petit au plus grand.

24 75 9
19 44



Indique un nombre plus petit et un nombre plus grand que :

	59	
--	-----------	--

Indique un nombre plus petit et un nombre plus grand que :

	62	
--	-----------	--

Indique un nombre plus petit et un nombre plus grand que :

	70	
--	-----------	--

Indique un nombre plus petit et un nombre plus grand que :

	54	
--	-----------	--



Calcule.

$$10 + 10 + 10 + 10 + 5 =$$

Calcule.

$$10 + 10 + 10 + 10 + 10 + 2 =$$

Calcule.

$$10 + 10 + 10 + 10 + 10 + 3 =$$

Calcule.

$$10 + 10 + 10 + 10 + 4 =$$



Calcule.

$$20 + 30 =$$

Calcule.

$$20 + 20 + 20 =$$

Calcule.

$$40 + 20 =$$

Calcule.

$$50 + 20 =$$



Calcule.

$$2 + \underline{\quad} = 10$$

$$7 + \underline{\quad} = 10$$

$$9 + \underline{\quad} = 10$$

Calcule.

$$\underline{\quad} + 4 = 10$$

$$\underline{\quad} + 5 = 10$$

$$\underline{\quad} + 8 = 10$$

Calcule.

$$8 + 8 = \underline{\quad}$$

$$3 + 3 = \underline{\quad}$$

$$6 + 6 = \underline{\quad}$$

Calcule.

$$9 + 9 = \underline{\quad}$$

$$5 + 5 = \underline{\quad}$$

$$10 + 10 = \underline{\quad}$$



Calcule.

$$1 + \underline{\quad} = 10$$

$$3 + \underline{\quad} = 10$$

$$0 + \underline{\quad} = 10$$

Calcule.

$$\underline{\quad} + 10 = 10$$

$$\underline{\quad} + 7 = 10$$

$$\underline{\quad} + 6 = 10$$

Calcule.

$$2 + 2 = \underline{\quad}$$

$$5 + 5 = \underline{\quad}$$

$$7 + 7 = \underline{\quad}$$

Calcule.

$$1 + 1 = \underline{\quad}$$

$$9 + 9 = \underline{\quad}$$

$$0 + 0 = \underline{\quad}$$

