

notre équipe :

---



---



---



---

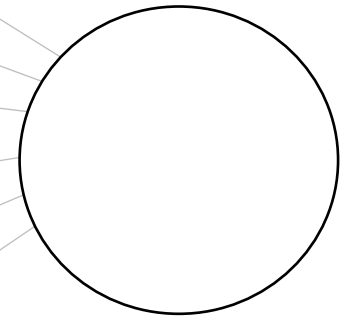


---



---


nos points :



3 exercices au choix  
pouvant rapporter 10 points  
chacun

exercice 1

Trouve une combinaison de chiffres de 1 à 9  
pour ouvrir le cadenas.



$$\bullet + \triangle + \square = 12$$

$$\bullet < 4$$

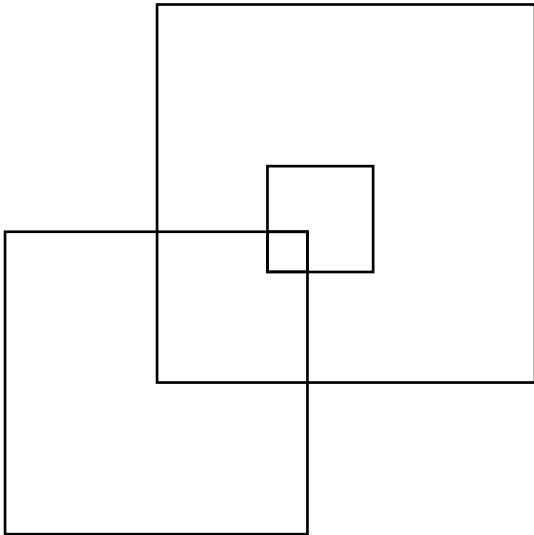
$$\triangle = \bullet + \bullet$$



## exercice 2

Regarde la figure.

Combien de carrés comptes-tu ?



Il y a \_\_\_\_\_ carrés.

## exercice 3

Trouve la boisson de chaque enfant.

Il y a des jus de pomme 🍏, d'orange 🍊, d'ananas 🍍 et du soda 🥤.

Anna aime les boissons à l' orange 🍊.

Emma n'aime pas les jus de fruits. ~~🍏 🍊 🍍~~

Jules n'aime ni le jus de pomme ni les boissons gazeuses. ~~🍏 🥤~~

Le nom d'un enfant commence comme son jus de fruits.

Paul	Anna	Emma	Jules

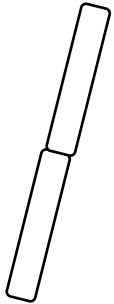
## exercice 4

Quelle sera la plante la plus haute au bout de 28 jours ?

Un **bambou** 🌿 et un **tournesol** 🌻 poussent dans la classe.

Les élèves les mesurent avec des bâtons de glace.

Le **bambou** 🌿 pousse...



7 jours

de 2 bâtons en 7 jours.


Le **tournesol** 🌻 pousse...



4 jours

d' 1 bâton en 4 jours.

28 jours



Etiquettes à découper :

exercice 3

