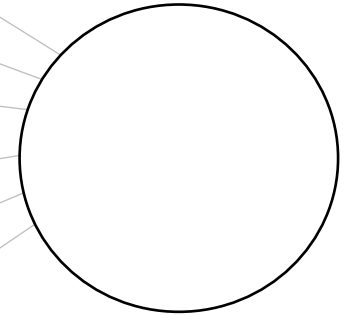




notre équipe :

nos points :



3 exercices au choix
pouvant rapporter 10 points
chacun

exercice 1

Antoine lit un livre.

Quand il additionne le numéro de la page de gauche et le numéro de la page de droite, il trouve le nombre 49.


Quels sont les numéros des deux pages ?




$$\bigcirc + \bigcirc = 49$$

exercice 2

Regarde l'assemblage de cubes. Il n'y a pas de trou caché.
Combien faut-il commander de cubes pour faire le même ?




Il faut commander _____ cubes. 

exercice 3

Trouve le nombre de roses et de tulipes dans chaque bouquet.
Marie a 12 tulipes et 8 roses. Elle veut faire 4 bouquets identiques.




Dans chaque bouquet, il y aura :



exercice 4

Dessine 6 façons différentes de faire 48€.



Etiquettes à découper :

exercice 3

