

notre équipe :

---



---



---



---

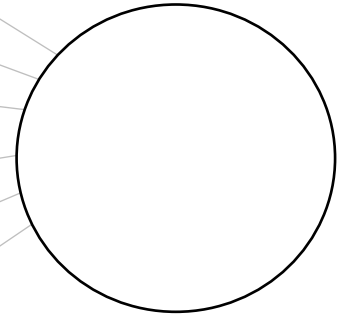


---



---

nos points :




3 exercices au choix  
pouvant rapporter 10 points  
chacun

exercice 1

Ecris ou colle les nombres de 1 à 5 dans la croix.


La somme de la ligne et de la colonne doit être la même.




||

## exercice 2

Regarde l'assemblage de cubes. Il n'y a pas de trou caché.  
Combien faut-il commander de cubes pour faire le même ?



Il faut commander \_\_\_\_\_ cubes. 

## exercice 3

Trouve quelle est la couleur des yeux de chaque personne.

Sonia, Antoine, Marie et Léo ont des yeux de couleur différente : **noirs**, **bleus**, **verts** ou gris.

Marie a les yeux gris.

Antoine n'a pas les yeux **verts**.

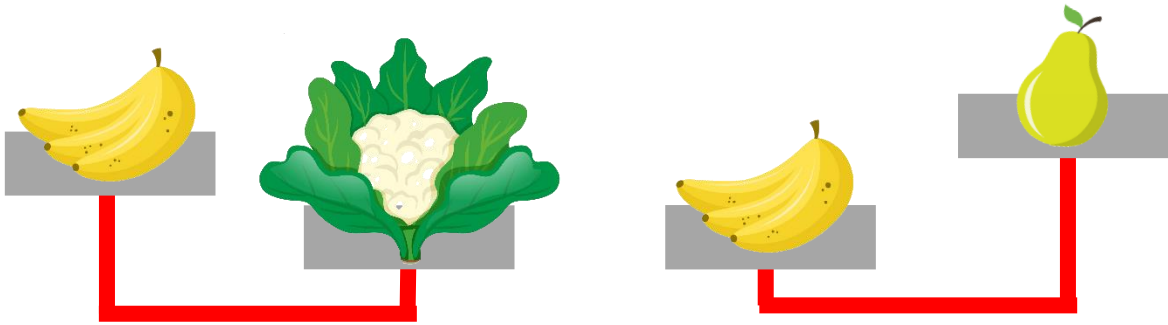
L'une des filles a les yeux **noirs**.

Sonia	Antoine	Marie	Léo

# exercice 4

Regarde les pesées.

Range les aliments du plus léger au plus lourd.




Etiquettes à découper :

exercice 1



exercice 3



exercice 4

