



notre équipe :

---

---

---

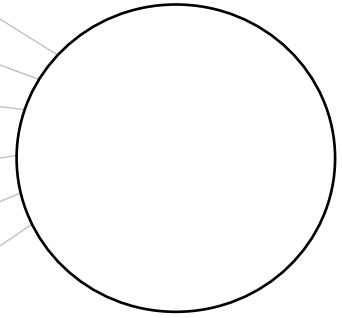
---

---

---

---

nos points :



3 exercices au choix  
pouvant rapporter 10 points  
chacun

## exercice 1

Chaque année, Thomas souffle les bougies de son gâteau d'anniversaire.

Hier, il a eu 6 ans.

Combien de bougies a-t-il soufflé depuis qu'il est né ?


## exercice 2

Les enfants construisent des tours avec des cubes.

Il y a trois couleurs de cubes.


Les tours font toujours trois cubes de hauteur. Il faut toujours les trois couleurs.

Construis ou colorie toutes les tours possibles.



## exercice 3

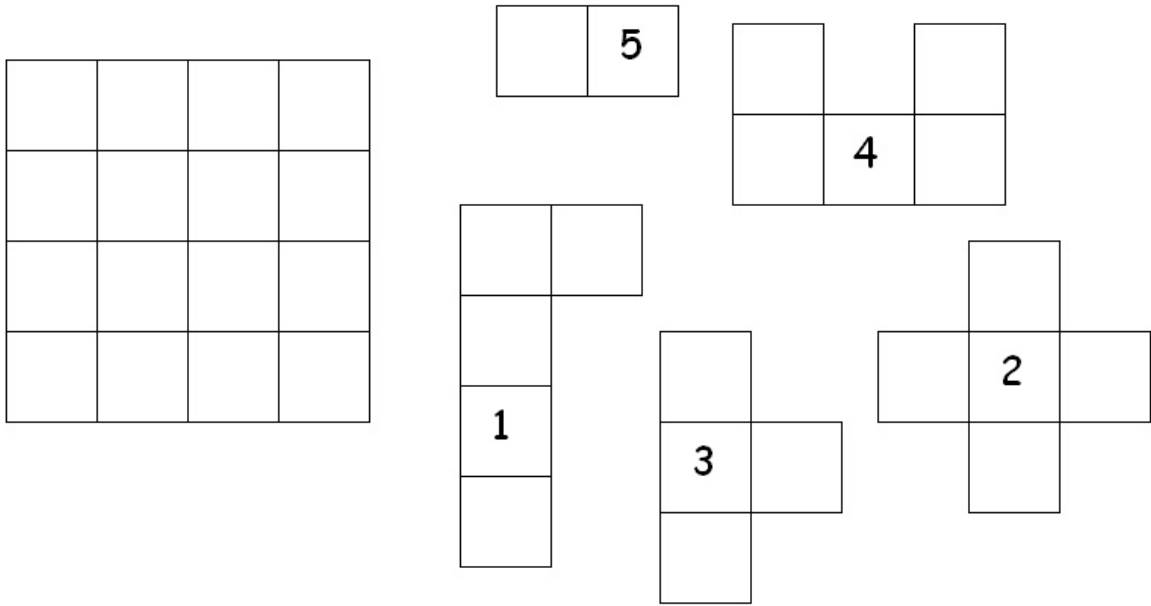
Papa a construit un rectangle avec des allumettes.



Avec le même nombre d'allumettes, fabrique un carré et un triangle. Tous les côtés du triangle doivent mesurer la même longueur.

# exercice 4

Voici un carré et des pièces de puzzle.



On peut remplir tout le carré avec quatre pièces de puzzle.

Barre la pièce en trop.



Etiquettes à découper :

exercice 1



exercice 4

